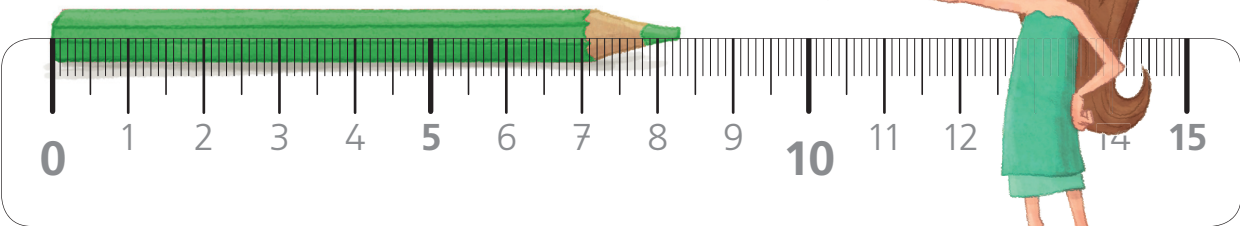



Der Stift ist 8 cm und 3 mm lang.



1 Miss die Länge der Stifte.



cm  mm



cm  mm



cm  mm



cm  mm



cm  mm

2 Miss die Länge der Strecken.



$8 + 5 = 13$   
... ich schreibe 3  
und übertrage 1.

	H	Z	E
	3	2	8
+	2	7	5
<hr/>			



$2 + 7 + 1 = 10$   
... ich schreibe 0  
und übertrage 1.

	H	Z	E
	3	2	8
+	2	7	5
		1	
<hr/>			
			3



$3 + 2 + 1 = 6$   
... ich schreibe 6.

	H	Z	E
	3	2	8
+	2	7	5
	1	1	
<hr/>			
	0	3	



	H	Z	E
	3	2	8
+	2	7	5
	1	1	
<hr/>			
	6	0	3


1 Rechne.

	H	Z	E
	5	8	3
+	2	4	4
<hr/>			

	H	Z	E
	1	5	7
+	4	2	6
<hr/>			

	H	Z	E
		3	9
+	3	1	3
<hr/>			


	H	Z	E
	4	7	8
+	2	5	1
<hr/>			



2 Rechne.

	H	Z	E
	3	9	3
+	5	5	5
<hr/>			

	H	Z	E
	2	3	6
+	3	8	7
<hr/>			



	H	Z	E
	1	6	8
+	7	1	9
<hr/>			

	H	Z	E
	2	4	7
+	1	7	4
<hr/>			

3 Rechne.

	H	Z	E
	4	0	9
+	3	8	2
<hr/>			

	H	Z	E
	2	7	1
+	2	6	6
<hr/>			

	H	Z	E
	2	6	3
+	7	3	7
<hr/>			

	H	Z	E
	3	2	5
+	3	5	6
<hr/>			

