



Name: _____

Klasse: _____

Datum: _____

4. Aufgaben vom Typ A-B+C=

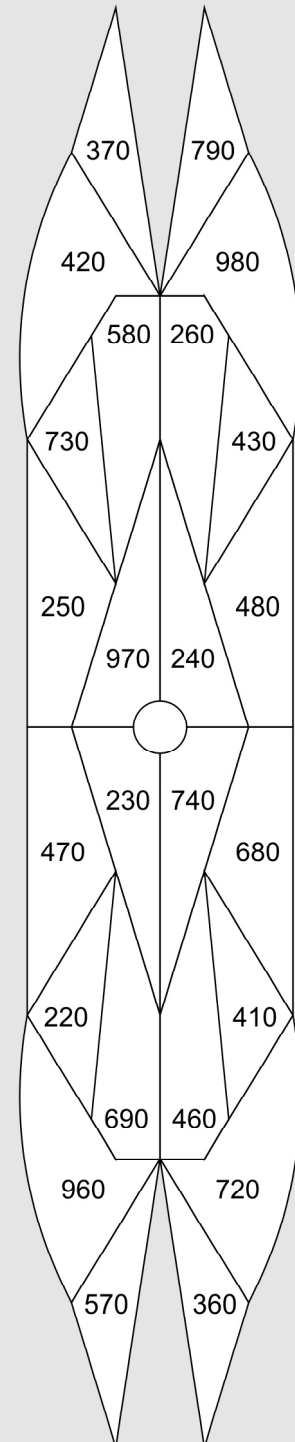
Übertrage die Aufgaben aus den Tabellen unten in die freien Felder und rechne sie aus! Male rechts im Kontrollbild alle Felder mit den Lösungszahlen farbig aus! Wenn du alles richtig rechnest, entsteht im Kontrollbild ein symmetrisches Muster.

-	120	230	340	+
590	6	4		10
480		2		
790	5		1	20
680			3	

-	120	230	340	+
680	9			20
570			10	
880	8	12		30
770		7	11	

1 790-340+20=	2 480-230+
3 680-	4
5	6
7	8
9	10
11	12

Kontrollbild





Name: _____

Klasse: _____

Datum: _____

4. Aufgaben vom Typ A-B+C=___ (Lösung)

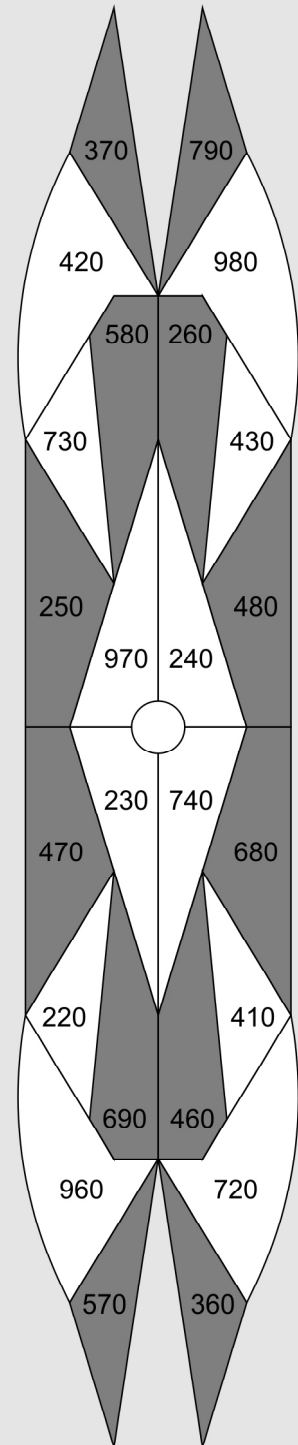
Übertrage die Aufgaben aus den Tabellen unten in die freien Felder und rechne sie aus! Male rechts im Kontrollbild alle Felder mit den Lösungszahlen farbig aus! Wenn du alles richtig rechnest, entsteht im Kontrollbild ein symmetrisches Muster.

-	120	230	340	+
590	6	4		10
480		2		
790	5		1	20
680			3	

-	120	230	340	+
680	9			20
570			10	
880	8	12		30
770		7	11	

1 $790-340+20=470$	2 $480-230+10=260$
3 $680-340+20=360$	4 $590-230+10=370$
5 $790-120+20=690$	6 $590-120+10=480$
7 $770-230+30=570$	8 $880-120+30=790$
9 $680-120+20=580$	10 $570-340+20=250$
11 $770-340+30=460$	12 $880-230+30=680$

Kontrollbild





Name: _____

Klasse: _____

Datum: _____

5. Aufgaben vom Typ $A+B-C=$ _____

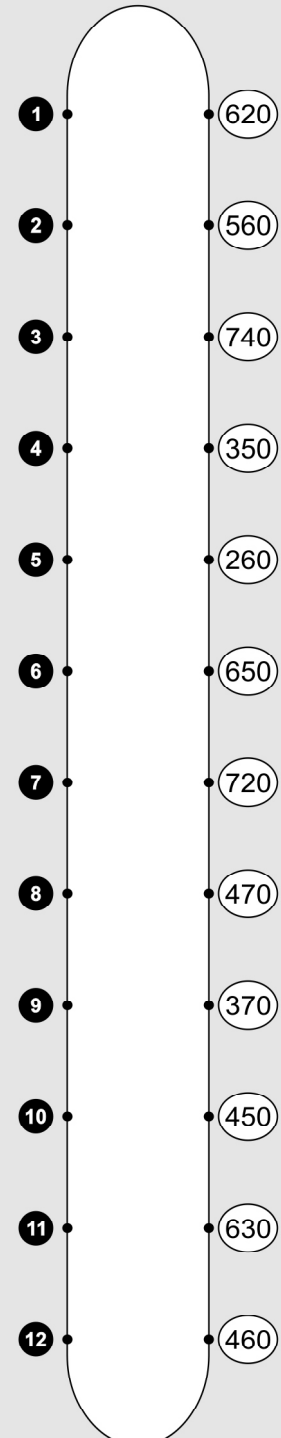
Übertrage die Aufgaben aus den Tabellen unten in die freien Felder und rechne sie aus! Verbinde rechts jede Aufgabennummer mit der zugehörigen Lösungszahl! Wenn du alles richtig rechnest, entsteht im Kontrollbild ein symmetrisches Muster.

+	140	260	350	-
290	2	5		80
380		4		
460			6	90
570	3	1		

+	170	250	360	-
180	8		12	90
290	11			
370	10		7	80
460		9		

1 $570+260-90=$	2 $290+140-$
3 $570+$	4
5	6
7	8
9	10
11	12

Kontrollbild





Name: _____

Klasse: _____

Datum: _____

5. Aufgaben vom Typ $A+B-C=$ __ (Lösung)

Übertrage die Aufgaben aus den Tabellen unten in die freien Felder und rechne sie aus! Verbinde rechts jede Aufgabennummer mit der zugehörigen Lösungszahl! Wenn du alles richtig rechnest, entsteht im Kontrollbild ein symmetrisches Muster.

+	140	260	350	-
290	2	5		80
380		4		
460			6	90
570	3	1		

+	170	250	360	-
180	8		12	90
290	11			
370	10		7	80
460		9		

1 $570+260-90=740$	2 $290+140-80=350$
3 $570+140-90=620$	4 $380+260-80=560$
5 $290+260-80=470$	6 $460+350-90=720$
7 $370+360-80=650$	8 $180+170-90=260$
9 $460+250-80=630$	10 $370+170-80=460$
11 $290+170-90=370$	12 $180+360-90=450$

Kontrollbild

