



Name: _____

Klasse: _____

Datum: _____

4. Aufgaben vom Typ $A \cdot B + C = \underline{\quad}$

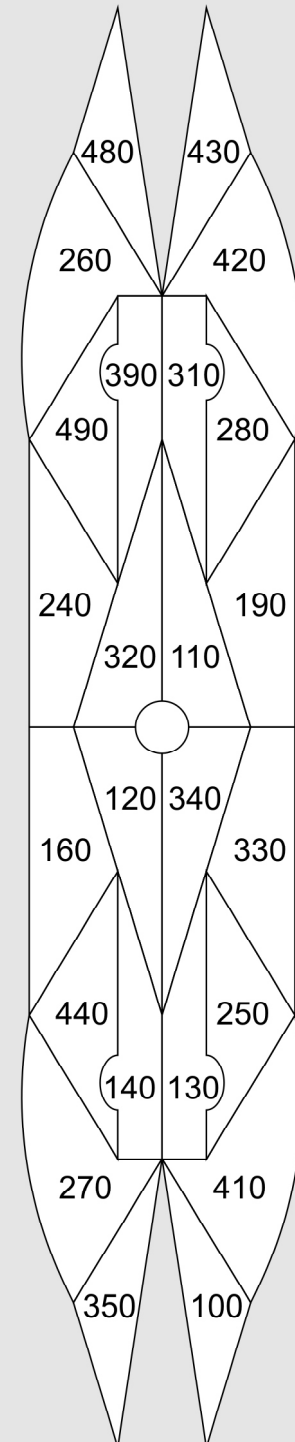
Übertrage die Aufgaben aus den Tabellen unten in die freien Felder und rechne sie aus! Male rechts im Kontrollbild alle Felder mit den Lösungszahlen farbig aus! Wenn du alles richtig rechnest, entsteht im Kontrollbild ein symmetrisches Muster.

·	30	40	50	+
6			5	30
2	4		2	40
9		6	3	30
5	1			40

·	30	40	50	+
8		9	8	30
4	7		10	40
7		11		30
3	12			40

1	$5 \cdot 30 + 40 =$	2	$2 \cdot 50 +$
3	9 ·	4	
5		6	
7		8	
9		10	
11		12	

Kontrollbild





Name: _____

Klasse: _____

Datum: _____

4. Aufgaben vom Typ $A \cdot B + C = _ _$ (Lösung)

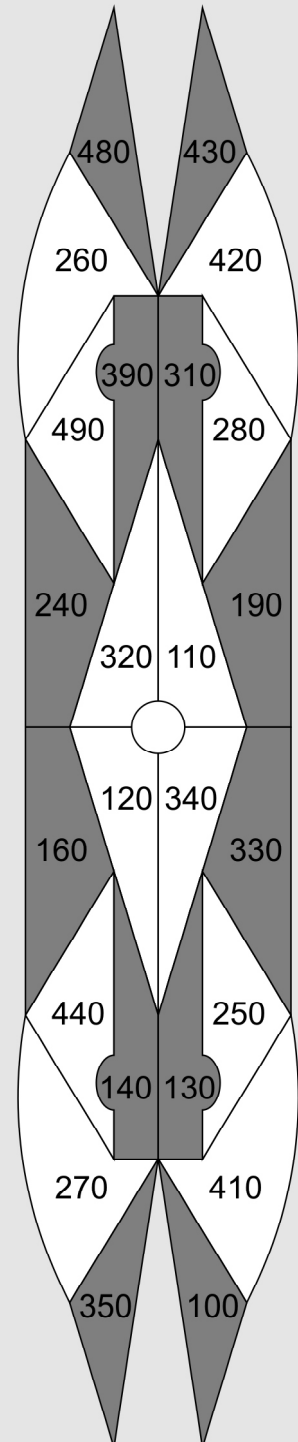
Übertrage die Aufgaben aus den Tabellen unten in die freien Felder und rechne sie aus! Male rechts im Kontrollbild alle Felder mit den Lösungszahlen farbig aus! Wenn du alles richtig rechnest, entsteht im Kontrollbild ein symmetrisches Muster.

·	30	40	50	+
6			5	30
2	4		2	40
9		6	3	30
5	1			40

·	30	40	50	+
8		9	8	30
4	7		10	40
7		11		30
3	12			40

1	$5 \cdot 30 + 40 = 190$	2	$2 \cdot 50 + 40 = 140$
3	$9 \cdot 50 + 30 = 480$	4	$2 \cdot 30 + 40 = 100$
5	$6 \cdot 50 + 30 = 330$	6	$9 \cdot 40 + 30 = 390$
7	$4 \cdot 30 + 40 = 160$	8	$8 \cdot 50 + 30 = 430$
9	$8 \cdot 40 + 30 = 350$	10	$4 \cdot 50 + 40 = 240$
11	$7 \cdot 40 + 30 = 310$	12	$3 \cdot 30 + 40 = 130$

Kontrollbild





Name: _____

Klasse: _____

Datum: _____

5. Aufgaben vom Typ A·B-C=___

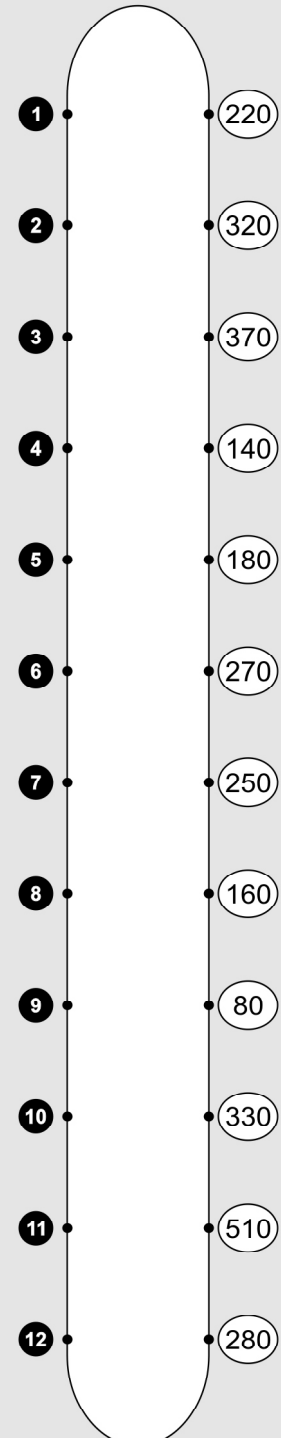
Übertrage die Aufgaben aus den Tabellen unten in die freien Felder und rechne sie aus! Verbinde rechts jede Aufgabennummer mit der zugehörigen Lösungszahl! Wenn du alles richtig rechnest, entsteht im Kontrollbild ein symmetrisches Muster.

·	40	50	60	-
3			5	20
7	6	4		30
4	2		3	20
8		1		30

·	40	50	60	-
5	8		10	20
9			9	30
2		11		20
6		7	12	30

1	$8 \cdot 50 - 30 =$	2	$4 \cdot 40 -$
3	$4 \cdot$	4	
5		6	
7		8	
9		10	
11		12	

Kontrollbild





Name: _____

Klasse: _____

Datum: _____

5. Aufgaben vom Typ A·B-C=___ (Lösung)

Übertrage die Aufgaben aus den Tabellen unten in die freien Felder und rechne sie aus! Verbinde rechts jede Aufgabennummer mit der zugehörigen Lösungszahl! Wenn du alles richtig rechnest, entsteht im Kontrollbild ein symmetrisches Muster.

·	40	50	60	-
3			5	20
7	6	4		30
4	2		3	20
8		1		30

·	40	50	60	-
5	8		10	20
9			9	30
2		11		20
6		7	12	30

1 $8 \cdot 50 - 30 = 370$	2 $4 \cdot 40 - 20 = 140$
3 $4 \cdot 60 - 20 = 220$	4 $7 \cdot 50 - 30 = 320$
5 $3 \cdot 60 - 20 = 160$	6 $7 \cdot 40 - 30 = 250$
7 $6 \cdot 50 - 30 = 270$	8 $5 \cdot 40 - 20 = 180$
9 $9 \cdot 60 - 30 = 510$	10 $5 \cdot 60 - 20 = 280$
11 $2 \cdot 50 - 20 = 80$	12 $6 \cdot 60 - 30 = 330$

Kontrollbild

