

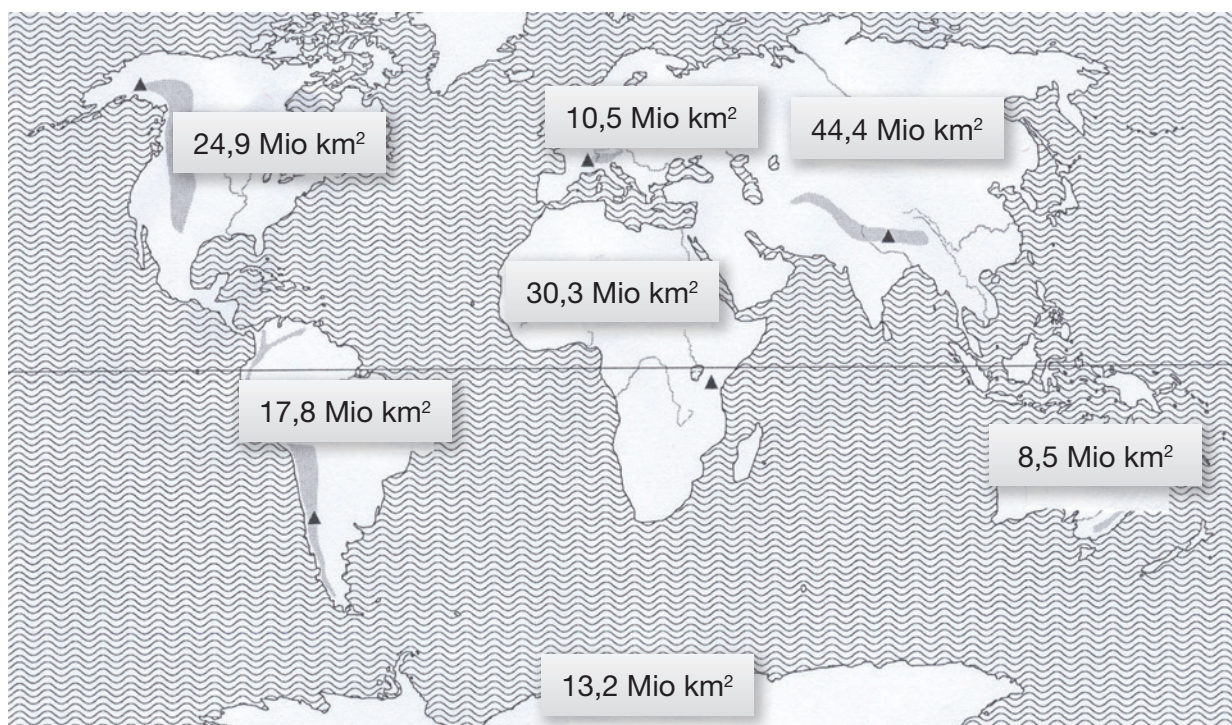
1

KONTINENTE - EUROPA - ÖSTERREICH

Kernziel: Topographisches Grundgerüst aneignen

| Arbeits-schritte Nr. | Sozial-form | Lernaktivitäten der Schüler/innen konkret | Methoden: Arbeitsmethoden, kommunikative Lernmethoden, Teammethoden | Arbeits-material als Beilage |
|----------------------|-------------|--|---|------------------------------|
| 1. | PA | Schüler/innen malen die 7 Kontinente nach Angabe an, ordnen sie der Größe nach und suchen zu jedem Kontinent 2 Länder. | PA Atlasarbeit | M1 Atlas |
| 2. | GA | Schüler/innen vergleichen in 3er oder 4er-Gruppen die Ergebnisse und korrigieren, wenn notwendig. | PA Ergebnis-vergleiche | M1 |
| 3. | GA | Jede Gruppe bekommt einen Kontinent zugeordnet. Schüler/innen bereiten ein Kurzreferat über ihren Kontinent vor: Lage, Größe, Länder, Flüsse, höchster Berg. | GA Vorbereitung des Referates mit Atlas und ABL. | M1 Atlas |
| 4. | EA | Ein/e beliebige/r Schüler/in jeder Gruppe wird ausgewählt und präsentiert seinen Kontinent vor der Klasse mit Hilfe einer großen Weltkarte | Präsentation | Weltkarte |
| 5. | PL | Wer kennt noch andere Länder dieser Kontinente? | Ergänzung auf dem ABL | M1 |
| 6. | | Welche Länder Europas sind euch bekannt? | Bienenkorb | |
| 7. | EA | Schüler/innen erstellen einen Raster von 1 – 48 in ihrem Heft. Schüler/innen suchen die Länder im Atlas, tragen diese im Raster ein und schreiben die Hauptstadt dazu. | Suchübung | M2 Atlas |
| 8. | | A sagt B ein Land, B soll die Hauptstadt sagen. Weiß er es nicht, sagt ihm A die Hauptstadt. B muss sie wiederholen. B fragt A neues Land,.... Wechsel im Uhrzeigersinn. | Doppelkreis Jedes Kind bekommt ein Kärtchen mit Land + HS | M3 |
| 9. | GA | Schüler/innen spielen in 4er Gruppen das Hauptstädtedomino. | Kinder be- kommen Domino-kärtchen | M4 |
| 10. | PA | Schüler/innen schreiben zu jedem Buchstaben ein europäisches Land aus ihrem Gedächtnis und schreiben die Hauptstadt in Klammer dazu. | ABC Liste | M5 |

| | | | | |
|-----|------------------------|---|-------------------|--|
| 11. | PA | Schüler/innen kontrollieren mit ihrem GW Heft und zählen die erreichten Punkte. (Jedes Land und jede Hauptstadt zählen einen Punkt). | Partnerkontrolle | |
| 12. | EA | Schüler/innen folgen den Anweisungen auf ihrem Arbeitsblatt und nehmen den Atlas zu Hilfe. | | Atlas M6, M7 |
| 13. | | Schüler/innen tauschen mit ihrem Nachbarn das Heft und kontrollieren seine Arbeit. | Partnerkontrolle | |
| 14. | EA 3er- GA | Schüler/innen schneiden die einzelnen Bundesländer aus. Schüler/innen schreiben den Namen des Bundeslandes auf die Rückseite. Schüler/innen legen ihre ausgeschnittenen Bundesländer auf einen Haufen (24). Der Reihe nach zieht jeder ein Puzzleteil, benennt es und positioniert es an die richtige Stelle, sodass sich am Ende 3 fertige Österreichkarten ergeben. Schüler/innen kleben die fertige Karte in ihr Heft und schreiben des Namen des Bundeslandes mit blau und den Namen der Hauptstadt mit rot auf die einzelnen Teile. | Österreich-Puzzle | M8 |
| 15. | EA PL 3er- GA | Schüler/innen bemalen jedes Bundesland mit einer anderen Farbe (siehe Atlas). Schüler/innen suchen im Atlas die Nachbarländer und schreiben sie in das Arbeitsblatt. Ein/e Schüler/in kommt zur Karte und zeigt der Reihe nach, mit Deutschland beginnend, im Uhrzeigersinn die Nachbarstaaten und benennt sie. Schüler/innen bekommen Kärtchen mit den Namen der 8 Nachbarländer. 1. Kind zieht ein Kärtchen und beschreibt das Nachbarland ohne es zu benennen (Tabu). Das Kind, das es zuerst errät, zeigt es im Atlas und bekommt das Kärtchen. 2. Kind zieht ein Kärtchen,..... Sieger ist der/ Schüler/in mit den meisten Kärtchen. | | M9 Österreich-wandkarte M10 Atlas Österreich-karte |
| 16. | | Wer wird Österreichmeister? Der/die Schüler/in, welche/r das Rätsel als Erste/r gelöst hat, ist Österreichmeister. | Österreich-Rätsel | M11 |

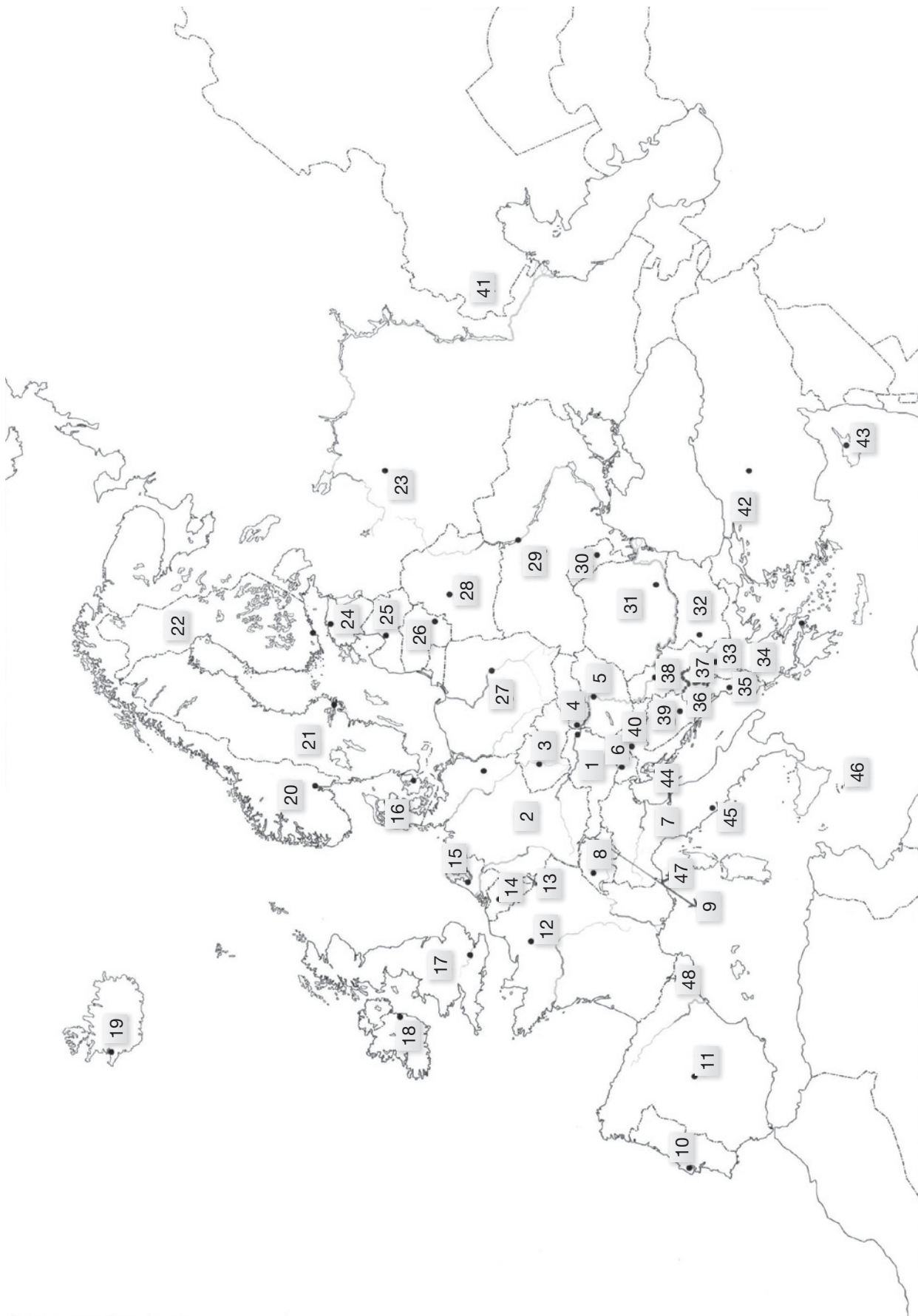


© Ed. Hölzel Ges.m.b.H., Wien 2003

Bemale Nordamerika rot, Südamerika dunkelgrün, Europa dunkelblau, Afrika orange, Asien gelb, Australien hellgrün, Antarktis rosa, die Ozeane hellblau.

Ordne die Kontinente der Größe nach, benenne den höchsten Berg, die längsten Flüsse und nenne mindestens 2 Länder:





























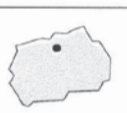












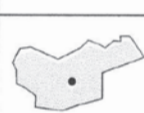
| | Kontinente | Höchste Berge | Längste Flüsse | Länder |
|----|------------|---------------|----------------|--------|
| 1. | | | | |
| 2. | | | | |
| 3. | | | | |
| 4. | | | | |
| 5. | | | | |
| 6. | | | | |
| 7. | | | | |



| | | |
|----|------------------------|------------|
| 1 | Österreich | Wien |
| 2 | Deutschland | Berlin |
| 3 | Tschechien | Prag |
| 4 | Slowakei | Pressburg |
| 5 | Ungarn | Budapest |
| 6 | Slowenien | Laibach |
| 7 | Italien | Rom |
| 8 | Schweiz | Bern |
| 9 | Liechtenstein | Vaduz |
| 10 | Portugal | Lissabon |
| 11 | Spanien | Madrid |
| 12 | Frankreich | Paris |
| 13 | Luxemburg | Luxemburg |
| 14 | Belgien | Brüssel |
| 15 | Niederlande | Amsterdam |
| 16 | Dänemark | Kopenhagen |
| 17 | Vereinigtes Königreich | London |
| 18 | Irland | Dublin |
| 19 | Island | Reykjavik |
| 20 | Norwegen | Oslo |
| 21 | Schweden | Stockholm |
| 22 | Finnland | Helsinki |
| 23 | Russland | Moskau |
| 24 | Estland | Tallinn |
| 25 | Lettland | Riga |
| 26 | Litauen | Vilnius |
| 27 | Polen | Warschau |
| 28 | Weißrussland | Minsk |
| 29 | Ukraine | Kiew |
| 30 | Moldawien | Kischinew |
| 31 | Rumänien | Bukarest |
| 32 | Bulgarien | Sofia |
| 33 | Makedonien | Skopje |
| 34 | Griechenland | Athen |
| 35 | Albanien | Tirana |
| 36 | Montenegro | Podgorica |
| 37 | Kosovo | Pristina |
| 38 | Serbien | Belgrad |
| 39 | Bosnien u. Herzegowina | Sarajevo |
| 40 | Kroatien | Agram |
| 41 | Kasachstan | Astana |
| 42 | Türkei | Ankara |
| 43 | Zypern | Nikosia |
| 44 | San Marino | San Marino |
| 45 | Vatikanstaat | |
| 46 | Malta | Valletta |
| 47 | Monaco | Monaco |
| 48 | Andorra | Andorra |

| | |
|----------------------------|------------------------------------|
| Frankreich Paris | Bosnien u. Herzegowina Sarajevo |
| Großbritannien London | Serbien Belgrad |
| Deutschland Berlin | Rumänien Bukarest |
| Italien Rom | Bulgarien Sofia |
| Tschechien Prag | Spanien Madrid |
| Slowenien Laibach | Portugal Lissabon |
| Schweiz Bern | Polen Warschau |
| Liechtenstein Vaduz | Estland Tallinn |
| Schweden Stockholm | Lettland Riga |
| Norwegen Oslo | Litauen Vilnius |
| Finnland Helsinki | Ungarn Budapest |
| Ukraine Kiew | Slowakei Pressburg |
| Kroatien Agram (Zagreb) | |

Hauptstadt-Domino „Europa“

| | | | | | | |
|---|---|---|---|--|---|---|
| Albanien | Belgien | Bosnien und Herzegowina | Bulgarien | Dänemark | Deutschland | Estland |
|  |  |  |  |  |  |  |
| Madrid | Prag | Ankara | Kiew | Budapest | Minsk | Nikosia |
| Finland | Frankreich | Griechenland | Vereinigtes Königreich | Irland | Island | Italien |
|  |  |  |  |  |  |  |
| Tirana | Brüssel | Sarajevo | Sofia | Kopenhagen | Berlin | Tallinn |
| Jugoslawien | Kasachstan | Kroatien | Lettland | Liechtenstein | Litauen | Luxemburg |
|  |  |  |  |  |  |  |
| Helsinki | Paris | Athen | London | Dublin | Reykjavik | Rom |
| Makedonien | Moldau | Monaco | Niederlande | Norwegen | Österreich | Polen |
|  |  |  |  |  |  |  |
| Belgrad | Astana | Agram | Riga | Vaduz | Vilnius | Luxemburg |
| Portugal | Rumänien | Russland | Schweden | Schweiz | Slowakei | Slowenien |
|  |  |  |  |  |  |  |
| Skopje | Kischinew | Monaco | Amsterdam | Oslo | Wien | Warschau |
| Spanien | Tschechien | Türkei | Ukraine | Ungarn | Weißrussland | Zypern |
|  |  |  |  |  |  |  |
| Lissabon | Bukarest | Moskau | Stockholm | Bern | Pressburg | Laibach |

Aus dem Begleitheft zu GW-Module 1, © Ed. Hölzel Ges.m.b.H., Wien 1999

ABC-Liste

| | |
|---|--|
| A | |
| B | |
| C | |
| D | |
| E | |
| F | |
| G | |
| H | |
| I | |
| J | |
| K | |
| L | |
| M | |
| N | |
| O | |
| P | |
| Q | |
| R | |
| S | |
| T | |
| U | |
| V | |
| W | |
| X | |
| Y | |
| Z | |