

## Natürliche Zahlen

50 €

Wie heißt der Nachfolger von 99?

A	98	B	101
C	100	D	990

100 €

Wie heißt der Vorgänger von 50?

A	51	B	49
C	40	D	60

200 €

Welche Zahl liegt zwischen 1.112 und 1.114?

A	1.013	B	1.111
C	1.115	D	1.113

300 €

Wie heißt der Nachfolger von 1.214.319?

A	1.214.329	B	1.214.320
C	1.214.419	D	1.214.400

500 €

Welche Zahl liegt genau zwischen 924 und 928?

A	927	B	926
C	930	D	925

1.000 €

Welche Zahl ist größer als 11.111?

A	1.398	B	9.999
C	11.210	D	11.011

2.000 €

Suche die Zahl achttausendneunundsechzig.

A	8.069	B	8.096
C	8.890	D	8.609

4.000 €

Welche Zahl ist kleiner als 333.101?

A	333.110	B	343.101
C	333.111	D	332.999

8.000 €

Wie schreibt man 84?

A	fierundachtzig	B	vierundachzig
C	vierundachtzig	D	vierundachdzig

16.000 €

Wie heißt der Nachfolger von 40.039.009?

A	40.039.019	B	40.039.010
C	40.030.000	D	40.040.000

32.000 €

Wie heißt der Vorgänger von 1.010.100?

A	1.019.100	B	1.010.099
C	1.010.999	D	1.010.010

64.000 €

Wie viele Nullen hat 1 Billion?

A	9	B	12
C	15	D	10

125.000 €

Wie viele Nullen haben zehn Millionen?

A	6	B	8
C	9	D	7

500.000 €

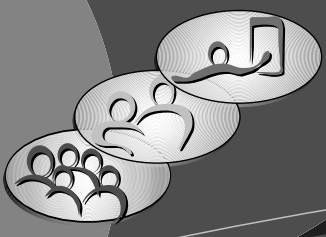
Welche Zahl liegt genau zwischen 24 und 36?

A	30	B	32
C	31	D	29

1.000.000 €

Welche Zahl liegt genau zwischen 3.420 und 4.626?

A	4.021	B	4.024
C	4.108	D	4.023



Name

Blatt 2

Blank name input field

Natürliche Zahlen

50 €

Wie heißt der Nachfolger von 1.000?

A 999      B 10.000  
C 1.010      D 1.001

100 €

Wie heißt der Vorgänger von 211?

A 210      B 201  
C 212      D 2.101

200 €

Welche Zahl liegt zwischen 10.222 und 10.224?

A 10.213      B 10.321  
C 10.223      D 10.225

300 €

Wie heißt der Nachfolger von 2.394.629?

A 2.394.630      B 2.494.630  
C 2.394.621      D 2.394.730

500 €

Welche Zahl liegt genau zwischen 1.130 und 1.134?

A 1.131      B 1.133  
C 1.030      D 1.132

1.000 €

Welche Zahl ist größer als 13.469.999?

A 12.999.999      B 13.469.000  
C 13.470.000      D 13.450.000

2.000 €

Suche die Zahl eintausendzweihundertvierzehn.

A 1.214      B 1.124  
C 2.214      D 1.241

4.000 €

Welche Zahl ist kleiner als 901.901?

A 902.001      B 900.999  
C 910.000      D 932.999

8.000 €

Wie schreibt man 94?

A vierundneundzig      B vierundneunzig  
C fierundneunzig      D vierundneuntzig

16.000 €

Wie heißt der Nachfolger von 100.000.109?

A 100.000.200      B 100.100.019  
C 100.000.108      D 100.000.110

32.000 €

Wie heißt der Vorgänger von 212.009?

A 212.010      B 212.008  
C 212.000      D 212.001

64.000 €

Wie viele Nullen hat 1 Milliarde?

A 7      B 6  
C 8      D 9

125.000 €

Wie viele Nullen haben zehn Milliarden?

A 10      B 9  
C 8      D 11

500.000 €

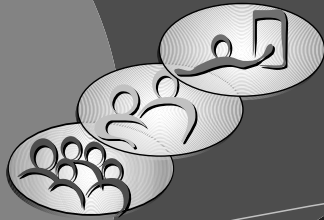
Welche Zahl liegt genau zwischen 48 und 60?

A 52      B 53  
C 55      D 54

1.000.000 €

Welche Zahl liegt genau zwischen 1.924 und 2.130?

A 2.026      B 1.999  
C 2.027      D 2.101



Blank name input field

Natürliche Zahlen

50 €

3Z 4E in Ziffern sind?

A	43	B	340
C	34	D	304

100 €

1H 2Z 9E in Ziffern sind?

A	192	B	1.092
C	1.029	D	129

200 €

3T 2H 9Z 1E in Ziffern sind?

A	3.291	B	3.219
C	30.291	D	3.290

300 €

294 als Stellenwert?

A	2T 9E 4Z	B	2H 94Z
C	2H 9Z 4E	D	29 E 47

500 €

1.001 als Stellenwert?

A	1H 1E	B	1ZT 1E
C	1H 1Z	D	1T 1E

1.000 €

90.455 als Stellenwert?

A	9ZT 4H 5Z 5E	B	90ZT 45E
C	9ZT 45H 5Z	D	9HT 4ZT 55E

2.000 €

9M 8HT in Ziffern sind?

A	9.080.000	B	9.800.000
C	980.000	D	9.008.000

4.000 €

8M 7HT 6ZT 4T in Ziffern sind?

A	8.760.400	B	8.674.000
C	8.764.000	D	87.460.000

8.000 €

1.000.000.300 als Stellenwert?

A	1M 3H	B	1M 3E
C	1B 3H	D	1Mrd 3H

16.000 €

91.000.000.000 als Stellenwert?

A	9ZMrd 1Mrd	B	91M
C	9Mrd 1M	D	9B 1Mrd

32.000 €

2Mrd 1M 4HT in Ziffern sind?

A	2.014.000.000	B	2.001.400.000
C	241.000.000	D	214.000.000

64.000 €

Zur Million fehlen bei 7 HT?

A	3ZT	B	300
C	3HT	D	3.000

125.000 €

3T 4H 2Z • 10

A	3.420	B	30.420
C	300.420	D	34.200

500.000 €

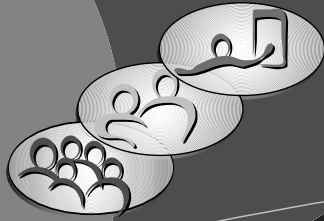
3 • 4H 9Z 1E

A	1.347	B	1.473
C	1.570	D	14.370

1.000.000 €

20 • 4M 5 HT 1ZT

A	92.000.000	B	9.020.000
C	90.200.000	D	8.900.000



Blank input field for name

Natürliche Zahlen

50 €

4Z 9E in Ziffern sind?

A	409	B	49
C	94	D	904

100 €

8H 3Z 1E in Ziffern sind?

A	381	B	8.031
C	3.801	D	831

200 €

5T 3H 1E in Ziffern sind?

A	50.301	B	5.031
C	5.301	D	1.530

300 €

324 als Stellenwert?

A	3H 2Z 4E	B	3H 24Z
C	2H 9Z 4E	D	3ZT 2H

500 €

9.400 als Stellenwert?

A	9T 4Z	B	94 E
C	9ZT 4H	D	9T 4H

1.000 €

80.055 als Stellenwert?

A	8T 5H 5E	B	B 8 H 55 E
C	8ZT 5Z 5E	D	8HT 5Z 5E

2.000 €

7M 6HT in Ziffern sind?

A	70.600.00	B	760.000
C	7.600.000	D	700.600

4.000 €

1M 6HT 7ZT 1T in Ziffern sind?

A	176.700	B	16.710.000
C	1.761.000	D	1.671.000

8.000 €

9.000.000.020 als Stellenwert?

A	9M 2Z	B	9B 2E
C	9Mrd 2E	D	9Mrd 2Z

16.000 €

79.000.000.000 als Stellenwert?

A	7ZMrd 9Mrd	B	79M
C	7Mrd 9M	D	7B 9Mrd

32.000 €

8Mrd 7M 1HT in Ziffern sind?

A	807.100.000	B	871.000.000
C	8.007.100.000	D	800.701.000

64.000 €

Zur Million fehlen bei 6 HT 5ZT?

A	3HT	B	3 HT 5ZT
C	3 HT 5T	D	3.500

125.000 €

4T 4H 9Z • 10

A	44.900	B	49.400
C	449.000	D	440.900

500.000 €

5 • 1H 8Z 3E

A	9.120	B	9.012
C	890	D	915

1.000.000 €

30 • 3M 8 HT 2ZT

A	116.400.000	B	980.000.000
C	114.600.000	D	117.800.000