

STATION 1

- ▶▶ Ordne die Kärtchen dem Gewicht nach!
- ▶▶ Beginne mit dem **leichtesten** Gewicht!
- ▶▶ Drehe die Kärtchen um!
- ▶▶ Trage die Lösung auf deinem Laufzettel ein!
- ▶▶ Mische die Kärtchen!

- ▶▶ **Kontrolliere an der Kontrollstation!**

KONTROLLSTATION 1

Karlchen und Karoline essen gerne **Erdbeereis**.

GEWICHTKÄRTCHEN (VORDERSEITE)



Tipp: Vor dem Ausschneiden erst die Rückseite aufkleben!

1 003 g	1,102 kg	1 kg 120 g
1 kg 300 g	10 kg 30 g	11,321 kg
3,056 t	3 t 560 kg	3 600 kg

GEWICHTKÄRTCHEN (RÜCKSEITE)



Achtung: Umgekehrte Reihenfolge wegen Spiegeleffekt beim Umdrehen der Kärtchen!

D	R	E
E	E	B
S	EI	R

STATION 2

►► Karlchen und Karoline spielen Kaufladen.




Sie wiegen Obst und Gemüse.




a) Schreibe das Gewicht auf!

b) Welche Gewichtssteine stehen auf der Waage?


►► **Kontrolliere an der Kontrollstation!**

KONTROLLSTATION 2

a)  = 600 g  = 140 g  = 125 g

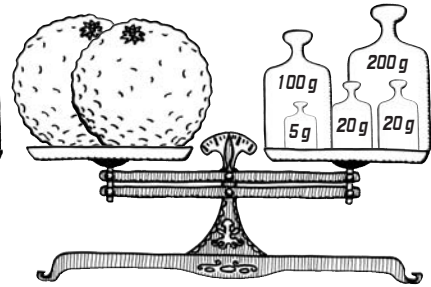



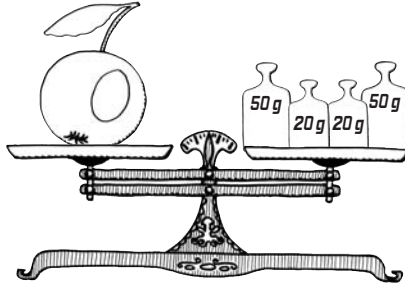
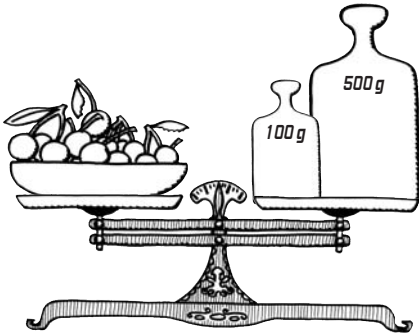
 = 40 g  = 270 g  = 345 g

b)  = 500 g + 200 g + 200 g

 = 500 g + 200 g + 50 g

STATION 2

a) Schreibe das Gewicht auf!



b) Welche Gewichtssteine stehen auf der Waage?

