

# 1.1 EUROPÄISCHE LANDSCHAFTEN



10.1: \_\_\_\_\_ in Island



10.2: \_\_\_\_\_ in Norwegen bei Geiranger. Das Tal wurde während der Eiszeit von einem Gletscher ausgeschürft. Später drang Meerwasser ein.



10.3: \_\_\_\_\_ im Westen Irlands



10.4: \_\_\_\_\_ am belgischen Kanal Charleroi – Brüssel



10.7: Landschaften Europas



10.5: \_\_\_\_\_ in Portugal



10.6: \_\_\_\_\_ in Süditalien (Lipari, Vulcano, im Hintergrund der Ätna)

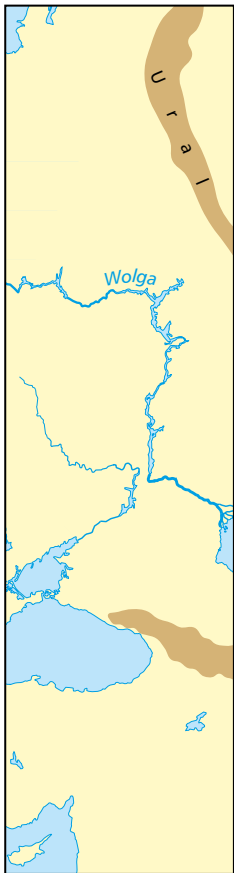
# 1.1 EUROPÄISCHE LANDSCHAFTEN



11.1: \_\_\_\_\_ in Polen



11.2: \_\_\_\_\_ (Ural, Russland)



## 2. Schreibe die Landschaftsbezeichnungen zu den Bildertexten:

- karges Gebirge** auf einer griechischen Insel
- Fjord**: tiefes, von einem Gletscher geformtes Tal, von Meerwasser überflutet
- Geysir**: heiße Springquelle auf einer Insel in Nordeuropa
- Steilküste**: auf einer Insel in Westeuropa
- Schiefe Ebene**: für Schiffe (Hebewerk)
- Vulkane** auf italienischen Inseln
- Nördlicher Nadelwald** in Nordeuropa
- Mittelgebirge** in Osteuropa
- Bucht von Kotor** am Adriatischen Meer
- Hochgebirge** in den Alpen
- Landwirtschaft**
- Kap da Roca** – westlichster Punkt des europäischen Festlandes

## 3. Verbinde mithilfe eines Lineals die Fotos mit den roten Punkten (Landschaften) in Karte 10.7.



11.3: \_\_\_\_\_ in Slowenien



11.4: \_\_\_\_\_ in Schweden



11.5: \_\_\_\_\_ in Montenegro



11.6: \_\_\_\_\_ auf der Insel Kreta





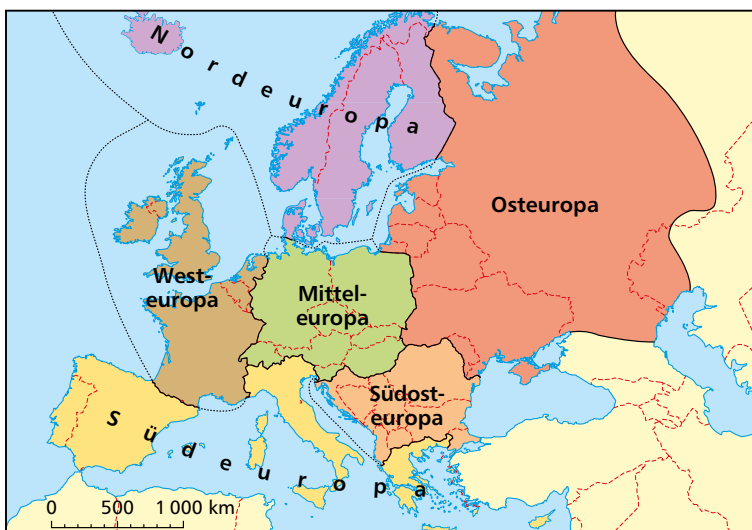
# 1.2 DIE EUROPÄISCHEN STAATEN

## Die Staaten Europas

1. Beschrifte die europäischen Staaten in Karte 12.1 (bei Platzmangel nur mit Anfangsbuchstaben). Merke dir ihre Namen sowie ihre Lage.



12.1: Staatengrenzen und Hauptstädte Europas



12.2: Teile Europas

### Europa

10 Millionen km<sup>2</sup>

740 Millionen Einwohnerinnen und Einwohner

48 Länder

44 Länder sind zur Gänze in Europa, 4 Länder gehören zum Teil zu Europa (Russland, Kasachstan, Türkei, Zypern).

2. Male die Spalte der Kfz-Kennzeichen in Tabelle 13.1 mit den sechs entsprechenden Farben der Karte 12.2 an.



### 3. Schreibe die Namen der Hauptstädte in Tabelle 13.1.

KFZ	Staat	Fläche in km <sup>2</sup>	Bevölkerung	Hauptstadt	KFZ	Staat	Fläche in km <sup>2</sup>	Bevölkerung	Hauptstadt
AL	Albanien	28 748	2,9 Mio.		MNE	Montenegro	13 812	628 000	
AND	Andorra	468	77 000	Andorra	NL	Niederlande	41 850	17,2 Mio.	
B	Belgien	30 528	11,6 Mio.		MK	Nord-mazedonien	25 713	2,1 Mio.	
BIH	Bosnien und Herzegowina	51 209	3,3 Mio.		N	Norwegen	323 802	5,5 Mio.	
BG	Bulgarien	110 879	6,9 Mio.		A	Österreich	83 871	8,9 Mio.	
DK	Dänemark	43 094	5,8 Mio.		PL	Polen	312 679	37,8 Mio.	
D	Deutschland	357 093	83,2 Mio.		P	Portugal	92 090	10,2 Mio.	
EST	Estland	45 227	1,2 Mio.		RO	Rumänien	238 391	21,2 Mio.	
FIN	Finnland	338 424	5,6 Mio.		RUS	Russland* (europ. Teil)	17 098 242 (3 955 800)	145,9 Mio. (104 Mio.)	
F	Frankreich	551 695	65,4 Mio.		RSM	San Marino	61	34 000	San Marino
GR	Griechenland	131 990	10,4 Mio.		S	Schweden	450 295	10,1 Mio.	
IRL	Irland	70 273	5,0 Mio.		CH	Schweiz	41 284	8,7 Mio.	
IS	Island	103 000	343 000		SRB	Serbien	77 474	7,0 Mio.	
I	Italien	301 336	60,4 Mio.		SK	Slowakei	49 037	5,5 Mio.	
KZ	Kasachstan* (europ. Teil)	2 724 900 (146 700)	19,0 Mio. (280 000)		SLO	Slowenien	20 273	2,1 Mio.	
RKS	Kosovo	10 887	1,9 Mio.		E	Spanien	505 992	46,7 Mio.	
HR	Kroatien	56 594	4,1 Mio.		CZ	Tschechien	78 865	10,7 Mio.	
LV	Lettland	64 559	1,9 Mio.		TR	Türkei* (europ. Teil)	783 562 (23 384)	84,9 Mio. (11 Mio.)	
FL	Liechtenstein	160	38 000	Vaduz	UA	Ukraine	603 500	43,5 Mio.	
LT	Litauen	65 300	2,7 Mio.		H	Ungarn	93 028	9,6 Mio.	
L	Luxemburg	2 586	633 000	Luxemburg	V	Vatikan	0,4	1 000	—————
M	Malta	316	442 000	Valletta	GB	Vereinigtes Königreich	242 900	68,1 Mio.	
MD	Moldau	33 846	4,0 Mio.		BY	Weißrussland	207 600	9,4 Mio.	
MC	Monaco	2	40 000	Monaco	CY	Zypern**	9 251	1,2 Mio.	

13.1: Europäische Staaten im Jahr 2021 (\* Diese Staaten liegen nur zum Teil in Europa; \*\* Zypern wird oft zu Asien gerechnet, KFZ = internationales Autokennzeichen (Qu: CIA-World Factbook, World Population Review, 2021)



## Sprachen in Europa

1. Male in Tabelle 14.1 die Sprachgruppen der germanischen Sprachen, romanischen Sprachen und der slawischen Sprachen mit unterschiedlichen Farben an. Vergleiche die Wörter: Wo gibt es Ähnlichkeiten, wo Unterschiede?

Von 1 bis 3 in europäischen Sprachen							
eins	zwei	drei	Deutsch	uno	due	tre	Italienisch
en	to	tre	Norwegisch	um	dois	três	Portugiesisch
een	twee	drie	Niederländisch	unu	doi	trei	Rumänisch
einn	tveir	brir	Isländisch	un	deux	trois	Französisch
ett	två	tre	Schwedisch	uno	dos	tres	Spanisch
one	two	three	Englisch	ün	dus	tres	Rätoromanisch
jedna	dvě	tři	Tschechisch	një	dy	tre	Albanisch
odin	dwa	tri	Russisch	yksi	kaksi	kolme	Finnisch
jeden	dwa	trzy	Polnisch	bir	iki	üç	Türkisch
jedan	dva	tri	Serbisch	egy	kettő	három	Ungarisch
jedan	dva	tri	Kroatisch	bat	bi	hiru	Baskisch
jedan	dva	tri	Bosnisch	ena	dio	tria	Griechisch
ena	dva	tri	Slowenisch				

14.1: Sprachgruppen (germanische Sprachen, romanische Sprachen und slawische Sprachen) sowie Sprachen, die nicht diesen Gruppen zuzuordnen sind.

### Be active! 2. Muttersprachen in der Klasse:

Schreibe auf, welche Muttersprachen in deiner Klasse gesprochen werden. Schreibe auch das Wort „danke“ in den verschiedenen Muttersprachen auf. Falls eine andere Schrift verwendet wird: Lass deine Mitschülerinnen oder Mitschüler das Wort in dein Buch schreiben. Überprüfe Ähnlichkeiten und markiere sie in der Liste.

(Falls keine anderen Muttersprachen außer Deutsch gesprochen werden: Suche im Internet nach dem Wort „danke“ in verschiedenen Sprachen und notiere sie.)

Sprache	„danke“ in der jeweiligen Sprache
Deutsch	danke



## Minderheiten in Europa

3. Schreibe in die Tabelle, in welchen europäischen Staaten die Minderheiten leben.



Samen in Norwegen, Schweden, Finnland
Schweden in Finnland

15.1: Sprachen und Minderheiten in Europa

## 4. Mehrheitsbevölkerung und Minderheiten

Kreuze (nur die) Minderheiten in den jeweiligen Ländern und Städten an.

- Französinnen und Franzosen in Paris
- Afrikanerinnen und Afrikaner in Paris
- Rätoromaninnen und Rätoromanen in der Schweiz
- Deutschsprachige in der Schweiz
- Ungarinnen und Ungarn in Budapest
- Romnija und Roma in Ungarn
- Zugewanderte aus den ehemaligen Kolonien in London
- Engländerinnen und Engländer in London
- Spanierinnen und Spanier in Madrid
- Baskinnen und Basken in Spanien
- türkische Familien in Berlin
- türkische Familien in Istanbul

# 1.4 IM NORDEN EUROPAS

## Norwegen – Landschaft und Klima

1. Beschreibe das Foto: Es zeigt die Landschaft und die Vegetation vom Fjord (Meeresspiegel) in das Hochgebirge (1500 m).



16.1: Vom Fjord in das Hochgebirge – 1 500 m Höhenunterschied

---

---

---

---

---

---

2. Arbeite mit dem Atlas. Arbeite Informationen zur norwegischen Fjordküste heraus und schreibe sie auf.

Beispiel Klima: im Jänner -4 °C bis 4 °C, im Juli 12 °C bis 16 °C, im Norden 8 °C bis 12 °C, Jahresniederschlag mehr als 3 000 mm, im Norden weniger Regen ...

Eiszeit: \_\_\_\_\_


Vegetation: \_\_\_\_\_

Bevölkerung: \_\_\_\_\_

Wirtschaft: \_\_\_\_\_

3. Zeichne das Klimadiagramm von Oslo und stelle die rechte Spalte fertig.

	J	F	M	A	M	J	J	A	S	O	N	D
°C	-4,3	-4,0	-0,2	4,6	10,8	15,2	16,4	15,2	10,8	6,4	0,7	-2,8
mm	49	36	46	42	52	65	84	90	90	84	75	56



a. mittlere Jahrestemperatur: 5,7 °C

b. der wärmste Monat: \_\_\_\_\_

c. der kälteste Monat: \_\_\_\_\_

d. der niederschlagsreichste Monat: \_\_\_\_\_

e. der niederschlagsärmste Monat: \_\_\_\_\_

f. Jahresniederschlag (alle Monate zusammen): \_\_\_\_\_

16.2: Selbst gezeichnetes Klimadiagramm von Oslo







## Nordeuropa – Topographie

4. Beschrifte die eingezeichneten Städte und Flüsse in Karte 17.1 nach der Checkliste.



**Meere:** Atlantischer Ozean, Nordsee, Ostsee

**Staaten:** Island, Norwegen, Schweden, Finnland, Dänemark

**Städte:** Reykjavik, Oslo, Bergen, Stockholm, Göteborg, Helsinki, Tampere, Turku, Kopenhagen

17.1: Nordeuropa mit Checkliste



## Landeskunde



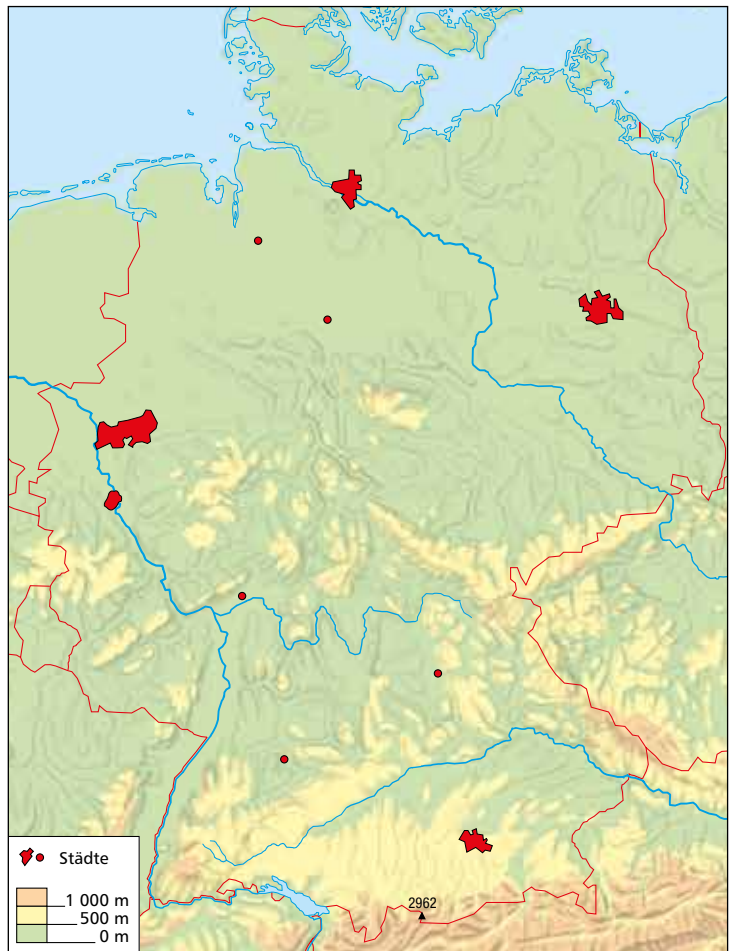
18.1: In der Speicherstadt am Hamburger Hafen werden auf 630 0000 m<sup>2</sup> Lagerfläche Waren aus der ganzen Welt gelagert.



18.2: Typische Kleinstadt in Mitteldeutschland (Herborn, Hessen)



18.3: München, die Hauptstadt Bayerns



18.4: Deutschland – Karte zum Beschriften

### 1. Beschrifte die eingezeichneten Städte und Flüsse in Karte 18.4.

**Gewässer:** Bodensee, Donau, Rhein, Elbe, Main

**Städte:** Berlin, Hamburg, Hannover, Bremen, Ruhrgebiet, Köln, Frankfurt, Stuttgart, München, Nürnberg

**Landschaften:** Alpen mit Zugspitze (höchster Berg Deutschlands)

Deutschland besteht aus 16 Bundesländern: Baden-Württemberg, Bayern, Berlin, Brandenburg, Bremen, Hamburg, Hessen, Mecklenburg-Vorpommern, Niedersachsen, Nordrhein-Westfalen, Rheinland-Pfalz, Saarland, Sachsen, Sachsen-Anhalt, Schleswig-Holstein, Thüringen.

### 2. Beantworte die Fragen zu den deutschen Bundesländern mithilfe des Atlas:

a. Welche Bundesländer grenzen an Österreich? \_\_\_\_\_

b) In welchen Bundesländern liegen folgende Städte?

München: \_\_\_\_\_

Frankfurt: \_\_\_\_\_

Düsseldorf: \_\_\_\_\_

Köln: \_\_\_\_\_

Stuttgart: \_\_\_\_\_

Hannover: \_\_\_\_\_